

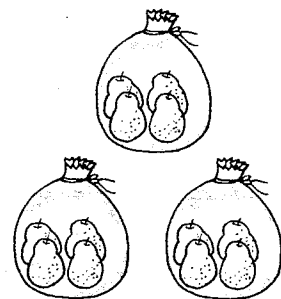
【9】整理与应用 一(2)

1. (1) 1 袋()个,()袋共()个。

算式:_____

- (2) 把()个梨平均分成()袋,每袋()个。算式:_____

- (3) 共有()个梨,每袋()个,可以分成()袋。算式:_____



2. 包装 1 个礼物盒需要丝带 9cm。1 条丝带长 27cm,可以包装几个礼物盒?



3. 把 12 头小猪分关到猪栏里。

每栏头数	2			6
栏 数		4	3	

4. (1) 要做 68 套衣服,已经做好 40 套,还要做多少套?

- (2) 28 套衣服,4 天做完,平均每天做几套?

5. (1) ● + ● + ● + ● = 24

▲ + ▲ + ▲ = 9

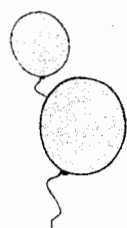
● - ▲ =

(2) ● + ● + ● = 24

▲ + ▲ + ▲ = 9


● - ▲ =





【5】练一练 二

1. 看图填数。



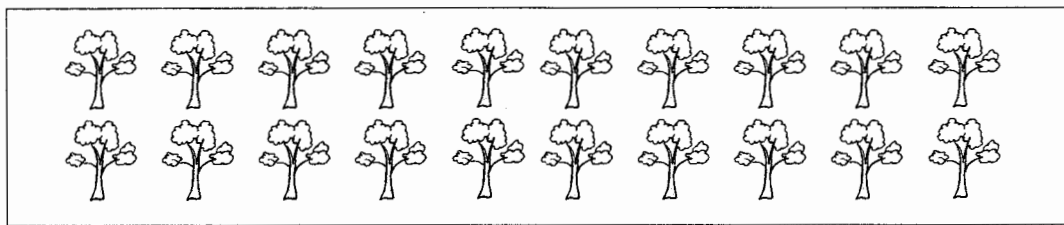
(1) 每盘()个梨,有()盘,共()个梨。

$$\square \times \square = \square (\text{个})$$

(2) ()个梨,每()个1盘,放了()盘。

$$\square \div \square = \square (\text{盘})$$

2. 先圈一圈,再列算式。



$$\square \times \square = \square (\text{棵})$$

$$\square \div \square = \square (\text{组})$$

3.



我有 18 颗糖。

每个小朋友 3 颗。

可以分给()个小朋友。 $\square \div \square = \square (\text{个})$ 

如果分给 9 个小朋友。

平均每人可以分()颗。

$$\square \div \square = \square (\text{颗})$$

4. 看算式,编问题。(说一说,不用写)

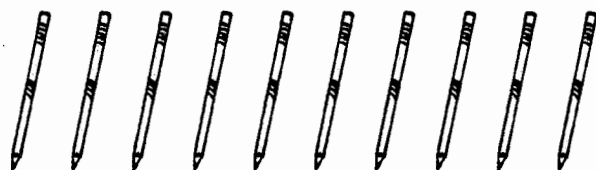
$$28 \div 4 = 7$$





【4】认识除法

1. 摆一摆,再列式。



每份 2 支,可以分成()份。 每份 5 支,可以分成()份。

算式:_____

算式:_____

2. 圈一圈,填一填。

(1) ● ● ● ● ● ● ● ●

8 个 ●,每 2 个 1 份,可以分成()份。


算式:_____

(2) △ △ △ △ △ △ △ △ △

9 个 △,平均分成 3 份,每份()个。

算式:_____


3. 15 个气球,每 5 个 1 束,可以分成()束。



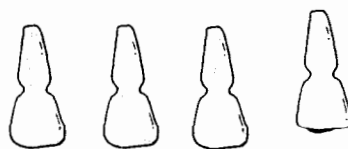
□ ÷ □ = □ (束)


名称——() () ()

4. 20 枝花,平均插到 4 个花瓶里,每瓶几枝?



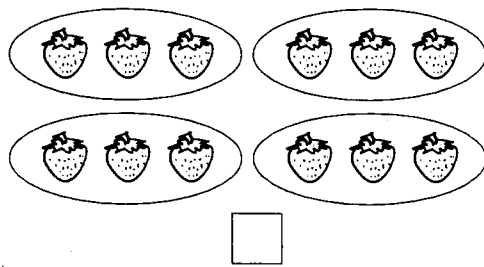
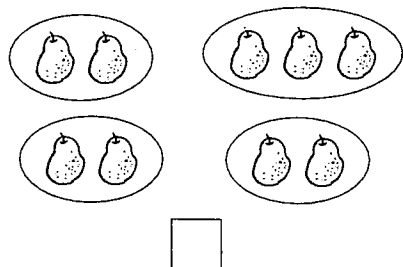
算式:□ ÷ □ = □ (枝)



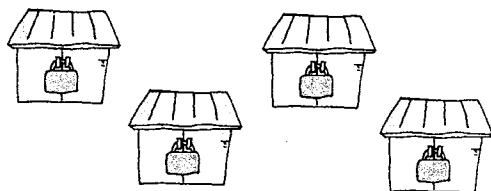



【3】练一练 一

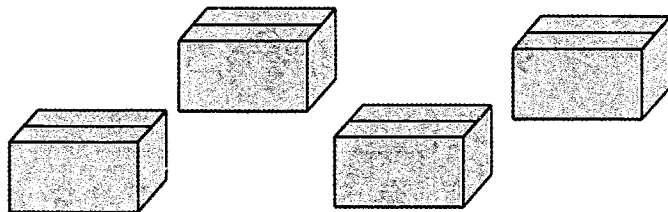

1. 下图中,表示平均分的在□里画√。




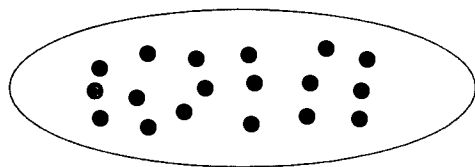
2. 16 只小鸟住在 4 间小屋里,平均每间小屋住()只小鸟。




3. 17 个小皮球装 4 盒,平均每盒装()个,还剩()个。

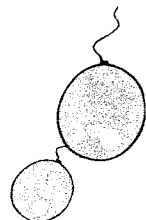


4. 1 个点子代表 1 颗糖。



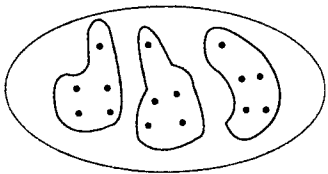
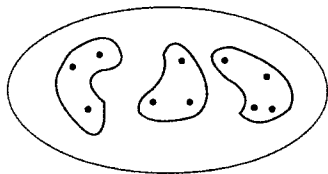
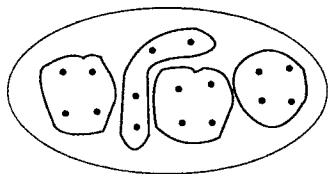
- (1) 如果 2 颗装 1 袋,可以装()袋。
- (2) 如果 3 颗装 1 袋,可以装()袋。
- (3) 如果 4 颗装 1 袋,可以装()袋,还剩()颗。
- (4) 如果()颗装 1 袋,可以装()袋。
- (5) 如果()颗装 1 袋,可以装()袋,还剩()颗。



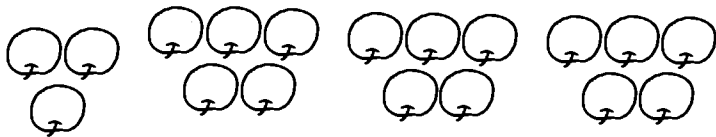


【2】平均分

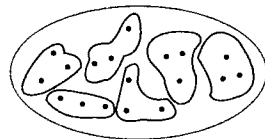
1. 下面分法是平均分的在□里画√。



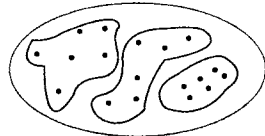
2. 把18个苹果放在盘子里。



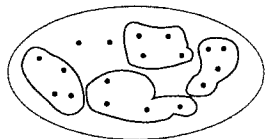
用1个点子代表1个苹果。



平均放在6个盘子里,每盘放()个。




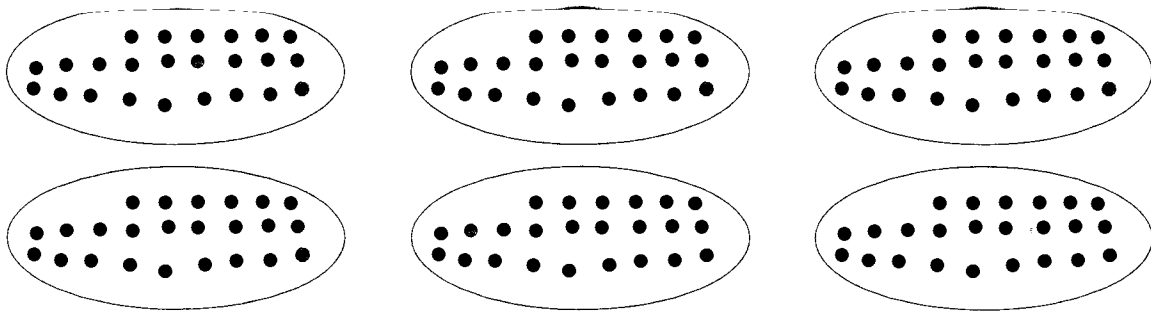
每盘放6个,可以放()盘。




每盘放4个,可以放()盘,还剩()个。

3. 把24朵花平均分正好分完。用1个点子代表1朵花,有哪些

不同的分法?请你圈一圈,说一说。





【12】辨认方向

1. 看一看,说一说。

学校 — 电影院 — 面包店
咖啡店 — 酸奶店 — 苹果店
游泳池 — 公园 — 图书馆

北
↑

学校在咖啡店的()方。 苹果店在图书馆的()方。
游泳池在公园的()方。 电影院在公园的()方。
()在()的东方。 ()在()的北方。

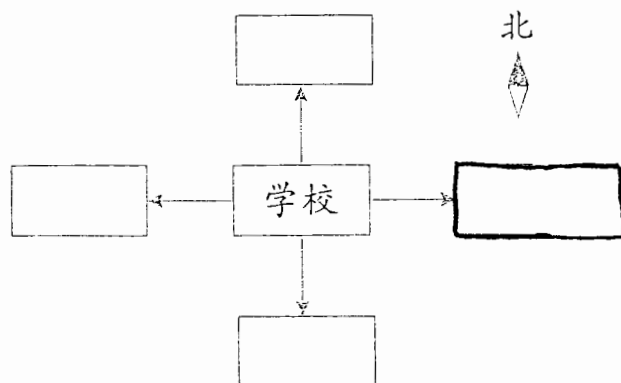
2. 根据所给的信息,在下面的□里写上合适的名称。

公园 在学校的南方。

电影院在 公园 的北方。

学校在医院的东方。

超市在学校的东方。



3. 根据所给的信息,在□里填上合适的字母。

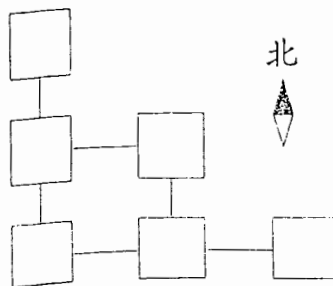
B 在 A 的东边。

E 在 D 的北边。

D 在 A 的北边。

B 在 F 的南边。

C 在 B 的东边。



B 在哪里呢?

